

**Конкурсна контрольна робота з географії
для вступу до 10 класу**

ВАРІАНТ 1

I. Завдання з вибором однієї правильної відповіді 2 бали (0.25 бала за кожну відповідь)

1. Регіон світу, в якому зосереджено 60% населення світу:

- А Азія
Б Європа
В Африка
Г Північна Америка

2. Визначте, яку форму рельєфу позначено на карті штриховкою:

- А Причорноморська низовина
Б Придніпровська низовина
В Середньоросійська височина
Г Донецький кряж



3. Оберіть варіант, у якому вказано адміністративні області України, що межують одна з одною:

- А Львівська, Закарпатська, Одеська
Б Херсонська, Миколаївська, Київська
В Черкаська, Харківська, Луганська
Г Волинська, Рівненська, Львівська





4. Виберіть рису, що характеризує річний хід пересічної температури повітря в Україні:

- А великі зміни від місяця до місяця влітку і взимку на незначні коливання восени і навесні
Б відносно невеликі зміни від місяця до місяця влітку і взимку та різкі коливання восени і навесні
В відносно невеликі зміни від місяця до місяця влітку і взимку, а також восени і навесні
Г амплітуда температур відносно стала протягом року

5. Зазначте, який показник характеризує механічний рух населення:

- А сальдо міграцій
Б густина населення
В рівень народжуваності
Г чисельність населення

6. Укажіть корисну копалину, що належить до рудних:

- А  Б  В  Г 

7. Укажіть чинник, що є визначальним у розміщенні підприємств меблевої промисловості:

- А споживчий
Б сировинний
В транспортний
Г екологічний

8. Назвіть країни, які входять до складу Європейського Союзу, але не входять до НАТО:

- А Франція, Німеччина, Велика Британія
Б Швеція, Швейцарія, Норвегія
В Греція, Іспанія, Італія
Г Фінляндія, Австрія, Ірландія

II. Завдання на визначення відповідності 4 бали (0.25 бала за кожну правильну відповідь)

9. Визначте відповідність, між тектонічними структурами та корисними копалинами, що з ними пов'язані:

1. Український щит
2. Дніпровсько-Донецька западина
3. Закарпатська западина
4. Галицько-Волинська западина
- А природний газ
Б калійна сіль
В золото
Г кам'яне вугілля
Д буре вугілля

	А	Б	В	Г	Д
1					
2					
3					
4					

10. Встановіть відповідність між парами географічних назв та їх належністю до певних типів географічних об'єктів:

1. Канарські, Зеленого мису
2. Атлаські, Капські
3. Судан, Алжир
4. Альмаді, Рас-Енгела
- А Миси
Б Гори
В Озера
Г Країни
Д Острови

	А	Б	В	Г	Д
1					
2					
3					
4					

11. Укажіть відповідність між типами озер за походженням їхніх улоговин і запропонованими прикладами:

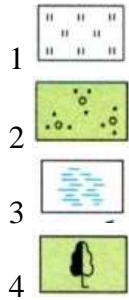
- 1 вулканічне
2 лиманне

- 3 карстове
4 загатне

- А Синевир
Б Ялпуг
В Світязь
Г Синє
Д Сасик (Кундук)

	А	Б	В	Г	Д
1					
2					
3					
4					

12. Установіть відповідність між умовними знаками топографічної карти та об'єктами на місцевості, які їм відповідають.



- А Болото
Б Листяний ліс
В Озеро
Г Луки
Д Чагарники

	А	Б	В	Г	Д
1					
2					
3					
4					

III. Завдання з вибором трьох правильних відповідей із семи 3 бали(0.25 бала за кожную відповідь)

13. Виберіть, що відноситься до вод суходолу:

- 1 Океани
2 Моря
3 Річки
4 Болота

- 5 Затоки
6 Протоки
7 Підземні води

<input type="checkbox"/>	<input type="checkbox"/>	<input type="checkbox"/>
--------------------------	--------------------------	--------------------------

14. Виберіть дослідників Антарктиди:

- 1 Роберт Скотт
2 Христофор Колумб
3 Джеймс Кук
4 Руаль Амундсен

- 5 Михайло Лазарєв
6 Френсіс Дрейк
7 Девід Лівінгстон

<input type="checkbox"/>	<input type="checkbox"/>	<input type="checkbox"/>
--------------------------	--------------------------	--------------------------

15. Виберіть сфери людської діяльності, які належать до первинного сектору економіки.

- 1 фінансова діяльність
2 сільське господарство
3 виробництво паперу
4 комп'ютерне програмування

- 5 добувна промисловість
6 лісове господарство
7 хімічні виробництва

<input type="checkbox"/>	<input type="checkbox"/>	<input type="checkbox"/>
--------------------------	--------------------------	--------------------------

16. Виберіть повітряні маси, які значно впливають на формування клімату України:

- 1 тропічні
2 арктичні
3 екваторіальні
4 помірні морські

- 5 антарктичні
6 тропічні континентальні
7 субекваторіальні

<input type="checkbox"/>	<input type="checkbox"/>	<input type="checkbox"/>
--------------------------	--------------------------	--------------------------

IV. Завдання відкритого типу 2 бали

17. Поміркуйте, що є спільного і відмінного між картою адміністративно-територіального устрою та фізичною картою України?

V. Завдання географічного змісту з використанням математичних розрахунків 1 бал

18. Скориставшись статистичними даними таблиці (на 1 січня 2017 року), розрахуйте густоту населення Харківської області. Поясніть, що таке густота населення.

Область	Сукупна кількість населення	Міське населення	Сільське населення	Площа, км ²
Харківська	2 699 846	2 208 029	552 919	31,4

**Конкурсна контрольна робота з географії
для вступу до 11 класу**

Варіант I

I рівень. Виберіть одну правильну відповідь

- 1. Укажіть характерну рису транспорту Африки.**
А більшість зовнішніх перевезень здійснює морський транспорт
Б функціонує розгалужена мережа магістральних трубопроводів на всій території континенту
В основні вантажопотоки забезпечують трансконтинентальні залізниці
Г найбільша щільність мережі автомобільних шляхів - у центральній частині материка
- 2. Для якої країни характерна вказана структура експорту: туристичні послуги, фрукти, вино, сир, пшениця, автомобілі, літаки, сталь, хімікати, ювелірні вироби, шовк?**
А Франції **Б** Канади **В** Швейцарії **Г** Ірану
- 3. Австралія характеризується**
А високою густрою населення. **Б** високим показником людського розвитку.
В високою забезпеченістю трудовими ресурсами. **Г** високим природним приростом населення.
- 4. Високу концентрацію в країнах Південно-Східної Азії підприємств, що виробляють побутову електротехніку, можна пояснити, оцінюючи**
А рівень розвитку чорної та кольорової металургії.
Б кваліфікацію, кількість і вартість робочої сили.
В обсяги державного фінансування науково-дослідних робіт.
Г можливості комбінування з виробництвами легкої промисловості.
- 5. Одним з основних шляхів здійснення регіональної політики в країнах світу є залучення інвестицій з більш розвинених регіонів країни в менш розвинені. Укажіть основний географічний напрямок сучасної регіональної інвестиційної політики Канади.**



- 6. Порівняйте місце Німеччини та України в міжнародному поділі праці. Визначте вид діяльності, для розвитку якого в Україні доцільно використати сучасні технології з Німеччини та досвід їхнього впровадження в цій країні.**
А освоєння родовищ нафти на шельфі Чорного й Азовського морів
Б проектування й будівництво потужних гідроелектростанцій у високогірних районах
В закриття нерентабельних вугільних шахт і розвиток альтернативної енергетики
Г спорудження зрошувальних каналів і створення спеціалізованої зони поливного землеробства

II рівень.

- 7. Визначте країну за особливістю розташування промислового виробництва.**

1	домінування західних районів у структурі промислового виробництва	А	Італія
2	зосередження важкої промисловості на північному сході країни.	Б	Білорусь
3	розташування 3/4 потужностей обробної промисловості в південно-східній частині країни	В	Індія
4	висока концентрація промислового виробництва на півночі країни	Г	Австралія
		Д	Німеччина

- 8. Установіть відповідність між характерною рисою економіки Сполучених Штатів Америки та її проявом.**

1	постіндустріальна структура економіки	А	серед 500 найбільших ТНК світу майже половина - американські
2	висока концентрація виробництва	Б	світова першість за чисельністю наукового та

	й капіталу			інженерного персоналу
3	істотні внутрішні відмінності в розташуванні виробництва		В	тваринницькі ферми - переважно вузькоспеціалізовані підприємства
4	розвиток бізнесу та встановлення міського способу життя в передмістях і за межами агломерацій		Г	Атлантичне узбережжя - це 2 % площі країни та понад 20 % виробленої в країні промислової продукції
			Д	власний автомобіль - американська реальність, традиція, елемент престижу

Виберіть три правильних відповіді

9. Чому країни Африки, спеціалізуючись на виробництві сільськогосподарської продукції, не спроможні забезпечити себе продовольством?

- 1** у більшості країн переважають ґрунти з низькою родючістю **2** агрокліматичні ресурси недостатні для вирощування продовольчих культур **3** урбанізація спричинила дефіцит робочої сили в сільській місцевості
- 4** зберігається низький рівень продуктивності праці в сільському господарстві **5** сільське господарство має інтенсивний характер розвитку **6** чисельність населення збільшується швидше, ніж зростає виробництво продовольства **7** товарне сільське господарство набуло переважно монокультурного характеру

III рівень.

- 10. Позначте на контурній карті: 1. Унітарна держава, у складі якої є автономні утворення, зокрема Країна Басків; 2. Цю країну образно називають «країною тюльпанів»; 3. Острівна держава, найбільший у світі експортер чаю; 4. Найбільша за площею держава світу, яка не має виходу до Світового океану; 5. Найбільша за площею держава Меланезії; 6. Острівна держава, яка займає західну частину однойменного острова, найбільша країна Америки.**



IV рівень. Дайте розгорнуту відповідь на запитання.

- 11. Порівняйте особливості ресурсозабезпеченості та спеціалізації субрегіонів Африки?**